

Demon Hunters Quiz



GIOCO 1 – MIRA INDOVINA LA FIGURA

Leggi l'indovinello e rispondi:

Ho 4 lati uguali e 4 angoli retti, chi sono?

Ho 3 lati tutti diversi, chi sono?

Ho solo due lati paralleli, chi sono?

GIOCO 2 – ZOEY CACCIA L'ERRORE

In ogni frase c'è un errore. Trovalo!

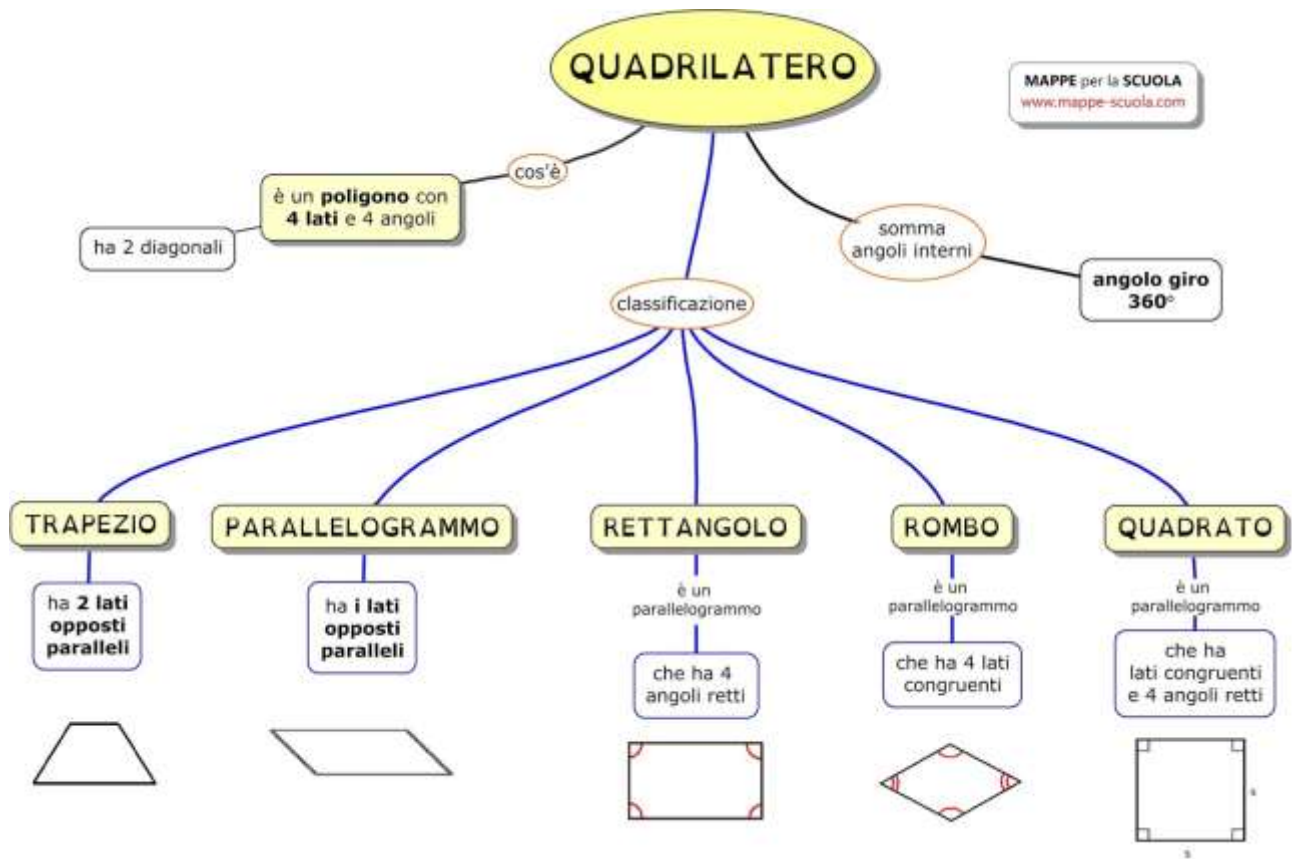
1. Il triangolo ha quattro lati
2. L'altezza del triangolo parte da un lato
3. Il quadrato ha tutti gli angoli acuti

GIOCO – RUMI DISEGNA

1. Disegna un triangolo
2. Disegna la sua altezza

3. Disegna un quadrato

4. Disegna un trapezio



Soluzioni

Quadrato

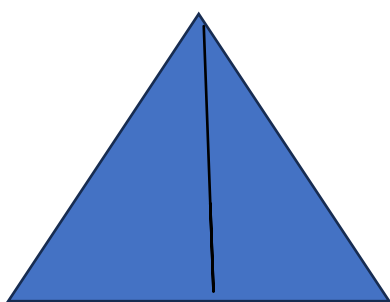
Triangolo scaleno

Trapezio

Il triangolo ha tre lati

L'altezza del triangolo parte da un vertice

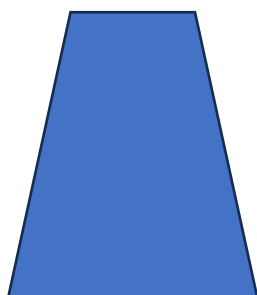
Il quadrato ha tutti gli angoli retti



triangolo



quadrato



trapezio